

20. Hangisi nezaket ifadesi **değildir**?

- A) Sana ne! B) Lütfen! C) Rica ederim.



21. Yandaki resim için hangisi **yanlıştır**?



- A) Karada hareket eder.
B) Yük taşır.
C) Yolcu taşır.

22. Aşağıdaki ifadelerden hangisi **yanlıştır**?

- A) Bayram hazırlığını sadece öğretmen yapmalıdır.
B) Bayram hazırlığı sınıfça yapılmalıdır.
C) Bayram için sınıflar süslenir.

23. Hangisi milli bayramlarımızdandır?

- A) Cumhuriyet Bayramı
B) Kurban Bayramı
C) Ramazan Bayramı

24. "Atatürk yılında doğdu."

cümlesinde boş bırakılan yere hangisi gelmelidir?

- A) bin dokuz yüz bir
B) bin sekiz yüz seksen bir
C) bin dokuz yüz on dokuz



25. Resimde vücudumuzun hangi bölümü gösteriliyor?



- A) kol ve bacaklar B) baş C) gövde

Her soru 4 (dört) puandır.
CEVAPLARINIZI KONTROL EDİNİZ

S. Ocak
Süleyman OCAK
Uzman Sınıf Öğretmeni

4

Bafra Gazi İlköğretim Okulu 2/B Sınıfı

Genel Değerlendirmeler - 3

Adım Soyadım:.....Okul Numaram:.....



TÜRKÇE DERSİ SORULARI

1. "Akif, dört gecedir erken yatıyor." cümlesinde **tek** heceli olan sözcük kaçınıcı sıradadır?

- A) birinci B) ikinci C) dördüncü

2. "... - p - ..." alfabeye göre "p" harfinden bir önceki ve bir sonraki harfler hangileridir?

- A) ö - r B) r - t C) n - ş

3. "tören - hürriyet - bayrak" kelimelerinin sözlük sıralaması hangi seçenekte doğru olarak verilmiştir?

- A) hürriyet - tören - bayrak
B) hürriyet - bayrak - tören
C) bayrak - hürriyet - tören

4. "bin" kelimesi hangi cümlede **farklı** anlamda kullanılmıştır?

- A) Bisiklete binmeyi altı yaşında öğrendim.
B) Dolmuşa binmek için acele ediyor.
C) Keşke bin tane misketim olsa.

5. Hangisinin baş harfi her zaman büyük **yazılmaz**?

- A) Gül B) Atatürk C) Anıtkabir

6. "Atatürk doğdu." cümlesi hangisiyle tamamlanırsa doğru olur?

- A) selanik'te B) Selanik'te C) Selanikte

1

7. Aşağıdaki sözcük ikililerinden hangisi **karşıt (zıt)** anlamlı sözcüklerden oluşmuştur?

- A) dost - düşman
- B) siyah - kara
- C) sonbahar - güz

8. Cümlelerden hangisinin sonuna **nokta (.)** işareti konulmalıdır?

- A) Eyvah, elmadan kurt çıktı
- B) Törene ne zaman gideceksiniz
- C) Bana yardım ettiğin için teşekkür ederim

MATEMATİK DERSİ SORULARI

9. Hangi gruba **2 tane daha** misket katarsak misketlerin sayısı **bir deste** olur?

- A) 
- B) 
- C) 

10. Evdeki **1 düzine** yumurtanın **yarısı** ile su böreği yaptık. Geriye kaç yumurta kaldı?

- A) 6 yumurta
- B) 10 yumurta
- C) 5 yumurta




11. Koninin tabanını kâğıda koyup, çevresini çizerseniz hangi şekli elde ederiz?

- A) kare
- B) çember
- C) dikdörtgen

12. 1 onluk 3 birlikten oluşan sayı, 2 onluktan ne kadar **azdır**?

- A) 5
- B) 6
- C) 7

13. Hangi şekil, bir bütünün **çeyreğini** göstermektedir?

- A) 
- B) 
- C) 

2

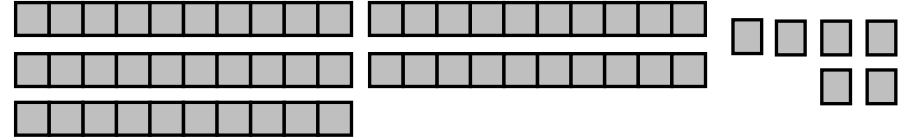
14. Her gün **3 TL** harcayan bir çocuk **5 günde** kaç lira harcar?

- A) 15 TL
- B) 10 TL
- C) 8 TL

15. Hangi geometrik şeklin kenar sayısı **en azdır**?

- A) 
- B) 
- C) 

16.



Yukarıda onluk ve birlikleri gösterilen sayı hangisidir?

- A) 36
- B) 50
- C) 56

17. Hangisi dikdörtgenler prizmasına benzemektedir?

- A) 
- B) 
- C) 

HAYAT BİLGİSİ DERSİ SORULARI

18. Okul çantası hazırlanırken doğru araç - gereçlerin unutulmaması için ne yapılabilir?

- A) Her gün bütün araç - gereçler çantaya konulabilir.
- B) Ders programı odaya asılabilir.
- C) Her gün arkadaşlar aranıp onlara sorulabilir.

19. Yasin, teneffüste Hüseyin'in ağladığını gördü ve onun yanına gitti. Hangisi Hüseyin'in ağlama nedeni **olamaz**?

- A) Düşmüş ve canı yanmıştır.
- B) Çok komik bir kitap okumuştur.
- C) En sevdiği kalemini kaybetmiştir.

3

Bafra Gazi
İlköğretim Okulu
2 / B Sınıfı
Genel
Değerlendirme
Sınavı - 3

Adı:
Soyadı:

- 1 (A) (B) (C)
- 2 (A) (B) (C)
- 3 (A) (B) (C)
- 4 (A) (B) (C)
- 5 (A) (B) (C)
- 6 (A) (B) (C)
- 7 (A) (B) (C)
- 8 (A) (B) (C)
- 9 (A) (B) (C)
- 10 (A) (B) (C)
- 11 (A) (B) (C)
- 12 (A) (B) (C)
- 13 (A) (B) (C)
- 14 (A) (B) (C)
- 15 (A) (B) (C)
- 16 (A) (B) (C)
- 17 (A) (B) (C)
- 18 (A) (B) (C)
- 19 (A) (B) (C)
- 20 (A) (B) (C)
- 21 (A) (B) (C)
- 22 (A) (B) (C)
- 23 (A) (B) (C)
- 24 (A) (B) (C)
- 25 (A) (B) (C)

Doğru:

Yanlış:

PUAN:

Bafra Gazi
İlköğretim Okulu
2 / B Sınıfı
Genel
Değerlendirme
Sınavı - 3

Adı:
Soyadı:

- 1 (A) (B) (C)
- 2 (A) (B) (C)
- 3 (A) (B) (C)
- 4 (A) (B) (C)
- 5 (A) (B) (C)
- 6 (A) (B) (C)
- 7 (A) (B) (C)
- 8 (A) (B) (C)
- 9 (A) (B) (C)
- 10 (A) (B) (C)
- 11 (A) (B) (C)
- 12 (A) (B) (C)
- 13 (A) (B) (C)
- 14 (A) (B) (C)
- 15 (A) (B) (C)
- 16 (A) (B) (C)
- 17 (A) (B) (C)
- 18 (A) (B) (C)
- 19 (A) (B) (C)
- 20 (A) (B) (C)
- 21 (A) (B) (C)
- 22 (A) (B) (C)
- 23 (A) (B) (C)
- 24 (A) (B) (C)
- 25 (A) (B) (C)

Doğru:

Yanlış:

PUAN:

Bafra Gazi
İlköğretim Okulu
2 / B Sınıfı
Genel
Değerlendirme
Sınavı - 3

Adı:
Soyadı:

- 1 (A) (B) (C)
- 2 (A) (B) (C)
- 3 (A) (B) (C)
- 4 (A) (B) (C)
- 5 (A) (B) (C)
- 6 (A) (B) (C)
- 7 (A) (B) (C)
- 8 (A) (B) (C)
- 9 (A) (B) (C)
- 10 (A) (B) (C)
- 11 (A) (B) (C)
- 12 (A) (B) (C)
- 13 (A) (B) (C)
- 14 (A) (B) (C)
- 15 (A) (B) (C)
- 16 (A) (B) (C)
- 17 (A) (B) (C)
- 18 (A) (B) (C)
- 19 (A) (B) (C)
- 20 (A) (B) (C)
- 21 (A) (B) (C)
- 22 (A) (B) (C)
- 23 (A) (B) (C)
- 24 (A) (B) (C)
- 25 (A) (B) (C)

Doğru:

Yanlış:

PUAN:

Bafra Gazi
İlköğretim Okulu
2 / B Sınıfı
Genel
Değerlendirme
Sınavı - 3

Adı:
Soyadı:

- 1 (A) (B) (C)
- 2 (A) (B) (C)
- 3 (A) (B) (C)
- 4 (A) (B) (C)
- 5 (A) (B) (C)
- 6 (A) (B) (C)
- 7 (A) (B) (C)
- 8 (A) (B) (C)
- 9 (A) (B) (C)
- 10 (A) (B) (C)
- 11 (A) (B) (C)
- 12 (A) (B) (C)
- 13 (A) (B) (C)
- 14 (A) (B) (C)
- 15 (A) (B) (C)
- 16 (A) (B) (C)
- 17 (A) (B) (C)
- 18 (A) (B) (C)
- 19 (A) (B) (C)
- 20 (A) (B) (C)
- 21 (A) (B) (C)
- 22 (A) (B) (C)
- 23 (A) (B) (C)
- 24 (A) (B) (C)
- 25 (A) (B) (C)

Doğru:

Yanlış:

PUAN: